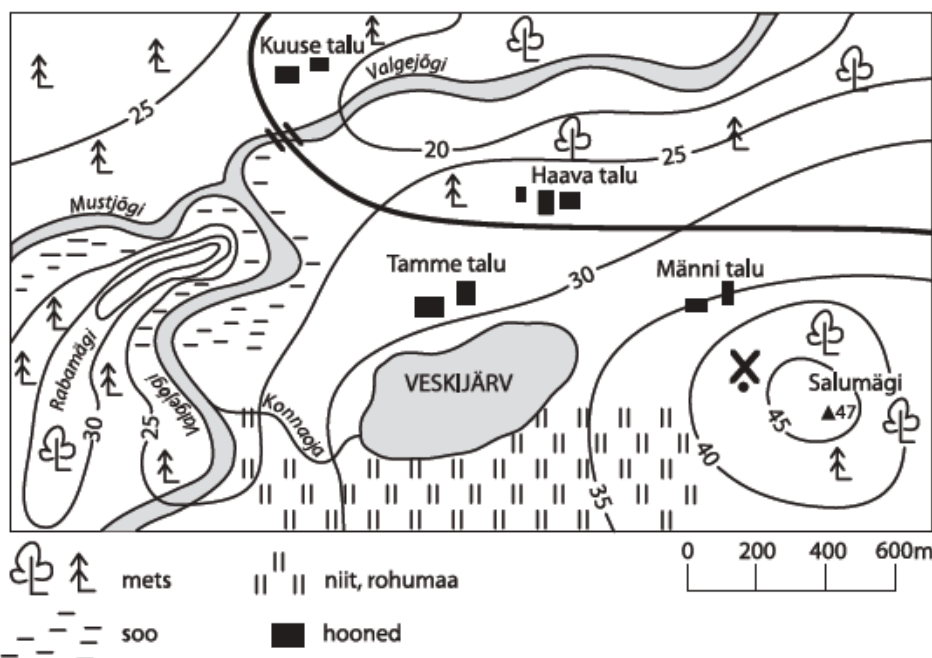


Nimi

Kool

Geograafiaõpetaja.....



1. Millised kaardi kohta käivad väited on tõesed, millised väärad? Oma otsusele tõmba joon alla.
 Väärad väited lauses paranda tõeseks. 5p.

- Tõene/väär Salumäe suhteline kõrgus Männi talu juurest mõõdetuna on 22 meetrit.
- Tõene/väär Haava talu jääb Tamme talust edelasse.
- Tõene/väär Konnaoja suubub Veskijärve.
- Tõene/väär Salumäe lõunanõlv on kõige järsem
- Tõene/väär Mustjõgi on Valgejõe vasakpoolne lisajõgi

Kui alustad teekonda punktist X ja liigud 1,4 km asimuudil 300 kraadi, kuhu siis välja jõuad?
 Tähista see punkt kaardil O-ga. 2p.
 Viiruta kaardil kõige madalam ala 1p.

2. Loe teksti, kasuta atlast ja vasta küsimustele 10p.

Mart ja Liis kavatsevad minna reisile. Nad alustavad reisi TALLINNAST ja lendavad LONDONISSE.
 Millisesse ilmakaarde nad lendavad? _____
 Määra LONDONI koordinaadid _____
 Londonist sõidavad sõbrad SYDNEYSSE.
 Millisesse ilmakaarde nad nüüd lendavad? _____
 Määra Sydney koordinaadid _____
 Austraalias plaanitakse olla 2 nädalat ja seejärel koduteel külastada esmalt linna koordinaatidega 40° N ja 117° E ja seejärel lennata läbi Londoni Tallinnasse tagasi.
 Mis linna nad Sydneyst lendasid? _____
 Kui suur on rahvastiku tihedus riigi selles osas, kus paikneb see linn? _____
 Mitu kilomeetrit oli kogu reis pikk? _____
 Londonist väljub lennuk kell 20.00. Mis on kell ja mis päev oli samal ajahetkel Sydneys?

3. Neid kodumaisest paekivist nii erinevaid kivimürakaid, mida võib leida Eestis kord keset metsa, kord keset karjamaad või kes teab veel kus ootamatus paigas, peame praegu oma looduse iseäralikuks, kuid loomulikuks pärusosaks. (Hendrik Relve, Loodusesõber 2006)



Millistest kivimürakatest on jutt? _____ 1p.

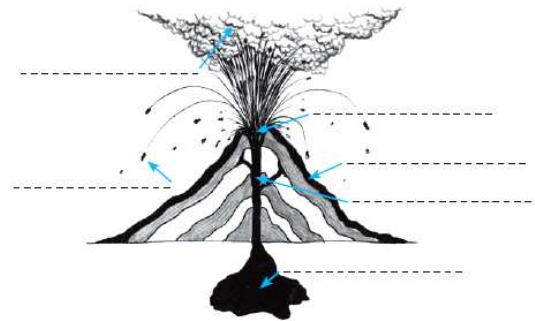
Selgita, kuidas on need hiiglased sattunud Eesti alale? _____ 2p.

Otsusta, kas väide on tõene või väär. Paranda ja põhjenda väite parandamist. _____ 2p.

Nendes kivimürakates leidub palju fossiile _____

4. Märki skeemile õigesse kohta: _____ 2 p.

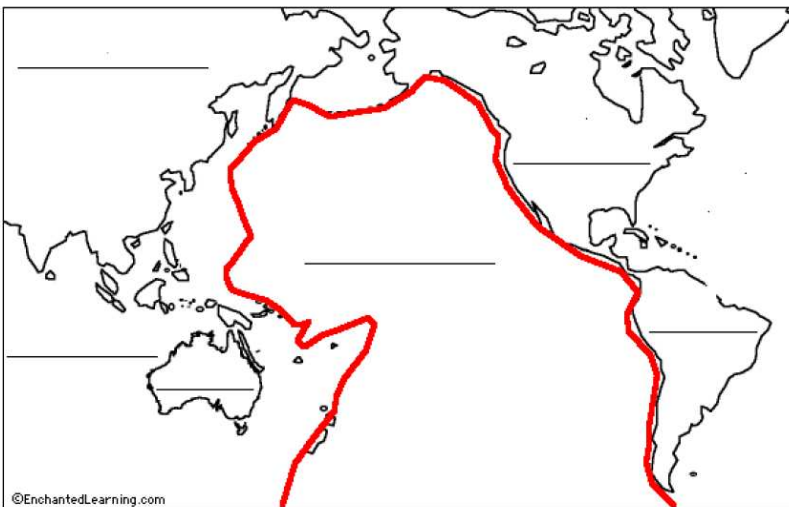
1. kraater
2. lõõr
3. magmakolle
4. laava
5. tuhapilv
6. vulkaanilised pommid



Kuidas tuntakse/ nimetatakse kaardil kujutatud piirkonda, kus esineb palju maavärinaid ja vulkaane? _____ 1p.

Tõmba nimekirjas vulkaanide nimedele joon alla. _____ 2p.

Vesuuv, Niamey, Mount Isa, Cotopaxi



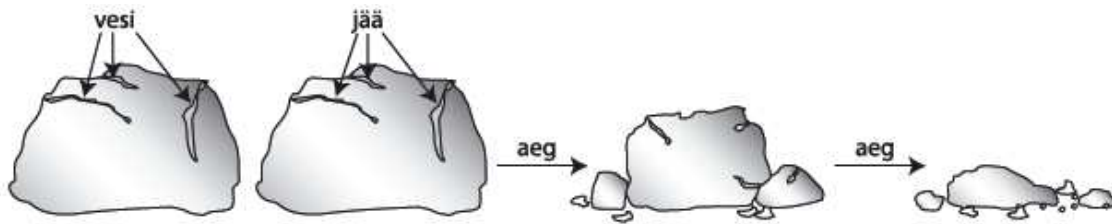
Põhjenda laamtektoonika teooriale tuginedes, miks esineb selles piirkonnas palju vulkaane ja maavärinaid. _____ 2p.

Mille poolest erineb magma laavast? _____ 1p.

Märki kaardi joontele ookeanide ja mandrite nimed. _____ 3p.

5. Kes on see Eestist pärit maadeuurija, kelle nimi on antud ühele Antarktise rannikul asuvale merele? _____ 1p.

6. Kuidas nimetatakse joonisel kujutatud protsessi?



Joonisel on kujutatud _____ 1p.
 Selgita, mis tegurite mõjul ja kuidas see protsess toimub. 2p.

7. Otsusta, kas väited on tõesed või väärad. Oma otsusele tõmba joon alla. Väärad väited lauses paranda tõeseks. 4p.

Tõene/väär Kalimantani saarel paikneb kolm riiki.

Tõene/väär Leena jõgi algab Baikali järvest.

Tõene/väär Titicaca järv paikneb Andide mäestikus Peruu ja Brasiilia piiril.

Tõene/väär Islandi saare kõrgeim tipp on 1763 m

8. Otsusta, kas pildil kujutatakse vana või noort mäestikku. 1p.

Pildil on _____ mäestik.

Too 3 väidet oma valiku kinnitamiseks. 3p.



a) _____

a) _____

c) _____

9. Too kaks näidet, kuidas põhjavesi võib reostuda 2p.

Nimeta veekogusid, millest ammutakse Tallinna joogivesi. 2p.

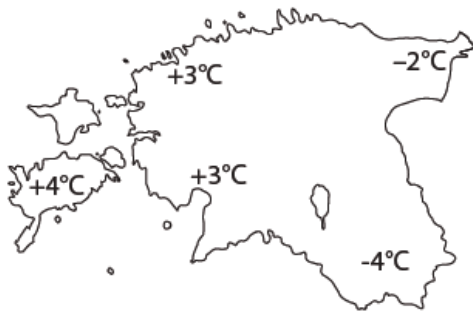
10. Leia igale selgitusele õige mõiste

2p.

Mõiste	Selgitus
	valge kristalliline sade, mis tekib õhus oleva veeauru kondenseerumise tagajärjel kui öösel aluspinnal (maapind, taimkate) temperatuur langeb alla 0°C.
	aluspinna kohal hõljuvatest veepiisakestest koosnev pilv
	esineb selge ning võrdlemisi vaikse ilma korral soojal aastaajal, kui maapind jahtub ja veeaur kondenseerub ning taimedele ja esemetele tekivad veepiisad
	sademed, mis kujutavad endast väga erineva kuju ja suurusega jääkristalle

11. Kaardil on kujutatud päevaseid õhutemperatuure. Otsusta, kas kaardil kujutatud olukord on tüüpiline kevadele või sügisele.

3 p.



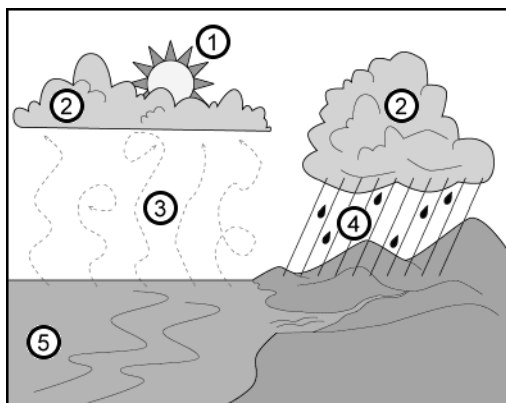
Kaart iseloomustab ilma _____

Põhjenda vastust: _____

12. Millist nähtust kujutatakse skeemil

? _____

1p.



Selgita seda protsessi.

3p.

13. Võrdle Eesti ja Islandi geograafilist asendit

6p.

Näitaja	EESTI	ISLAND